





ひきざん

なまえ

10よりおおきいかず 3



1 ねこが13ひき います。3ひき にげました。なんびき のこったでしょう。




こたえ ひき

2 に かず をかきましょう。


18 から 8 を ひいた かず

$18 - 8 =$



16 から 6 を ひいた かず

$16 - 6 =$



3 に かず をかきましょう。

17 より 7 ちいさい かずは

20 より 10 ちいさい かずは

4 に あてはまる かず をかきましょう。

20 - - 16 - 14 - - 10 - 8

