





ひきざん

なまえ

10よりおおきいかず 2



1 ねこが14ひき います。4ひき にげました。なんびき のこったでしょう。




こたえ ひき

2 に かず をかきましょう。


15 から 5 を ひいた かず

$15 - 5 =$



19 から 9 を ひいた かず

$19 - 9 =$



3 に かず をかきましょう。

19 より 9 ちいさい かずは

20 より 1 ちいさい かずは

4 に あてはまる かず をかきましょう。

20 - 18 - 16 - 14 - 12 - - 8

