




ひきざん

なまえ

10よりおおきいかず |



1 ねこが10ひき います。2ひき にげました。なんびき のこったでしょう。




こたえ ひき

2 に かず をかきましょう。


12 から 2 を ひいた かず

$$12 - 2 = \square$$



14 から 4 を ひいた かず

$$14 - 4 = \square$$



3 に かず をかきましょう。

20 より 5 ちいさい かずは

16 より 2 ちいさい かずは

4 に あてはまる かず をかきましょう。

8 - 10 - 12 - - 16 - 18 - 20

