





たしざん

なまえ

10よりおおきいかず 3



1 ねこが10ひき います。3ひき きました。ぜんぶで、なんびきでしょう。




こたえ ひき

2 に かず をかきましょう。


10 に 7 を たした かず

$10 + 7 =$



10 に 9 を たした かず

$10 + 9 =$



3 に かず をかきましょう。

18 は 10 と

20 は 10 と

17 は と 7

11 は と 1

