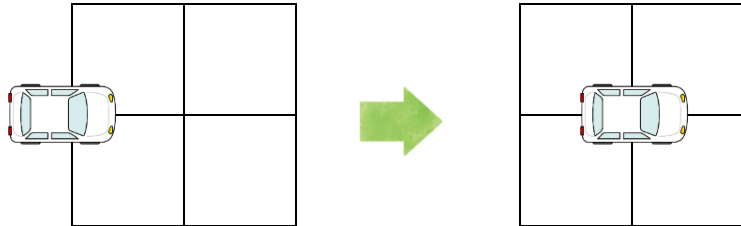





ロボットの車をうごかします。車のうごかし方は下のとおりです。

1マスすすむ



左にまわる



ロボットに下のようないれいをする、おわりはどこでしょう？

はじめ

1マスすすむ

1マスすすむ

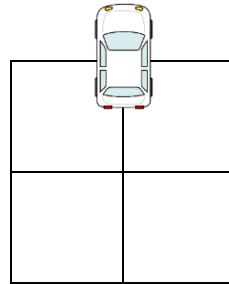
左にまわる

1マスすすむ

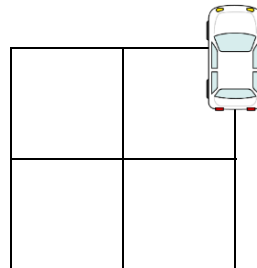
おわり

おわり

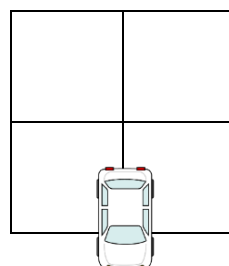
①



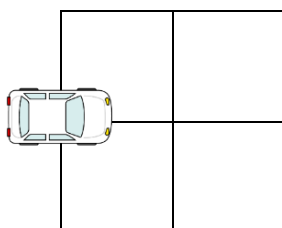
②




③



はじめ



こたえ





ロボットに下のようなめいれいをする、おわりはどこでしょうか？

