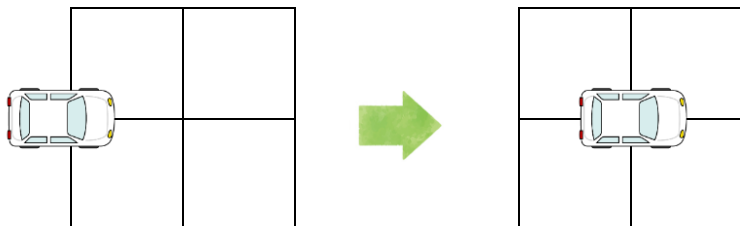


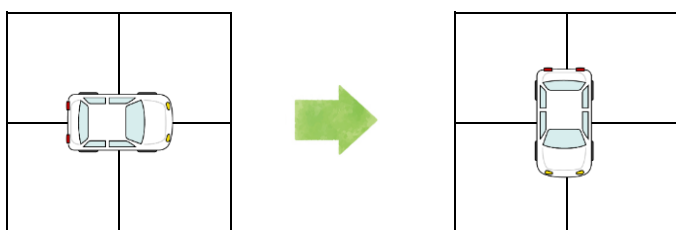


ロボットの車をうごかします。車のうごかしかたは下のとおりです。

1マスすすむ



右にまわる



ロボットに下のようないれいをする、おわりはどこでしょうか？

はじめ

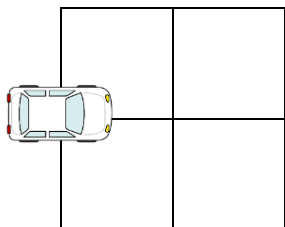
1マスすすむ

右にまわる

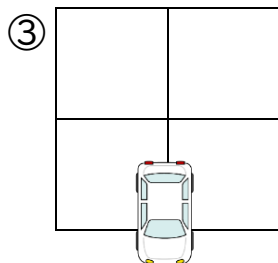
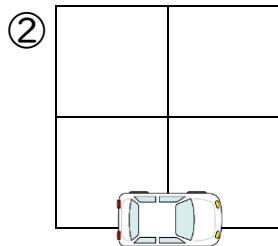
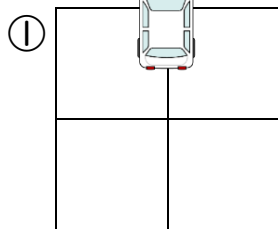
1マスすすむ

おわり


はじめ



おわり



こたえ



▶ ロボットに下のようなめいれいをする、おわりはどこでしょうか？

はじめ



1マスすすむ



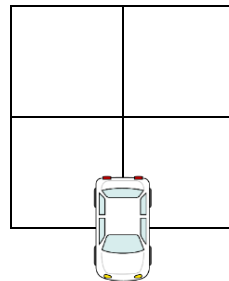
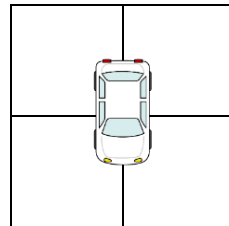
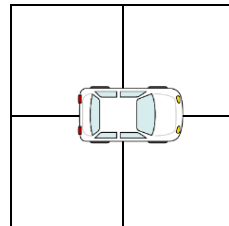
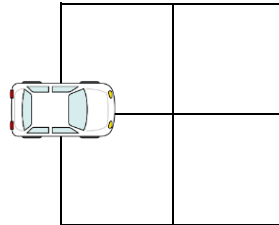
右にまわる



1マスすすむ



おわり



こたえ

③